

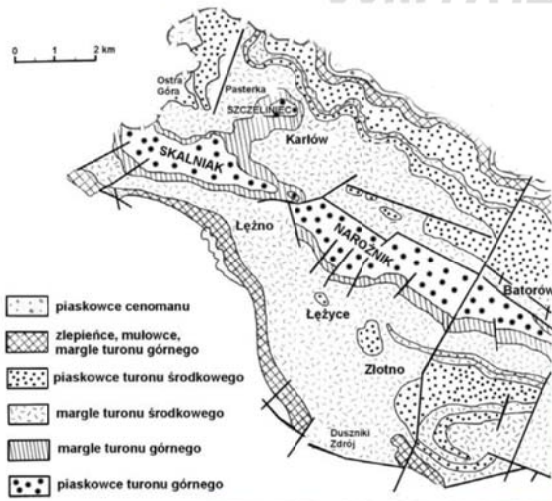
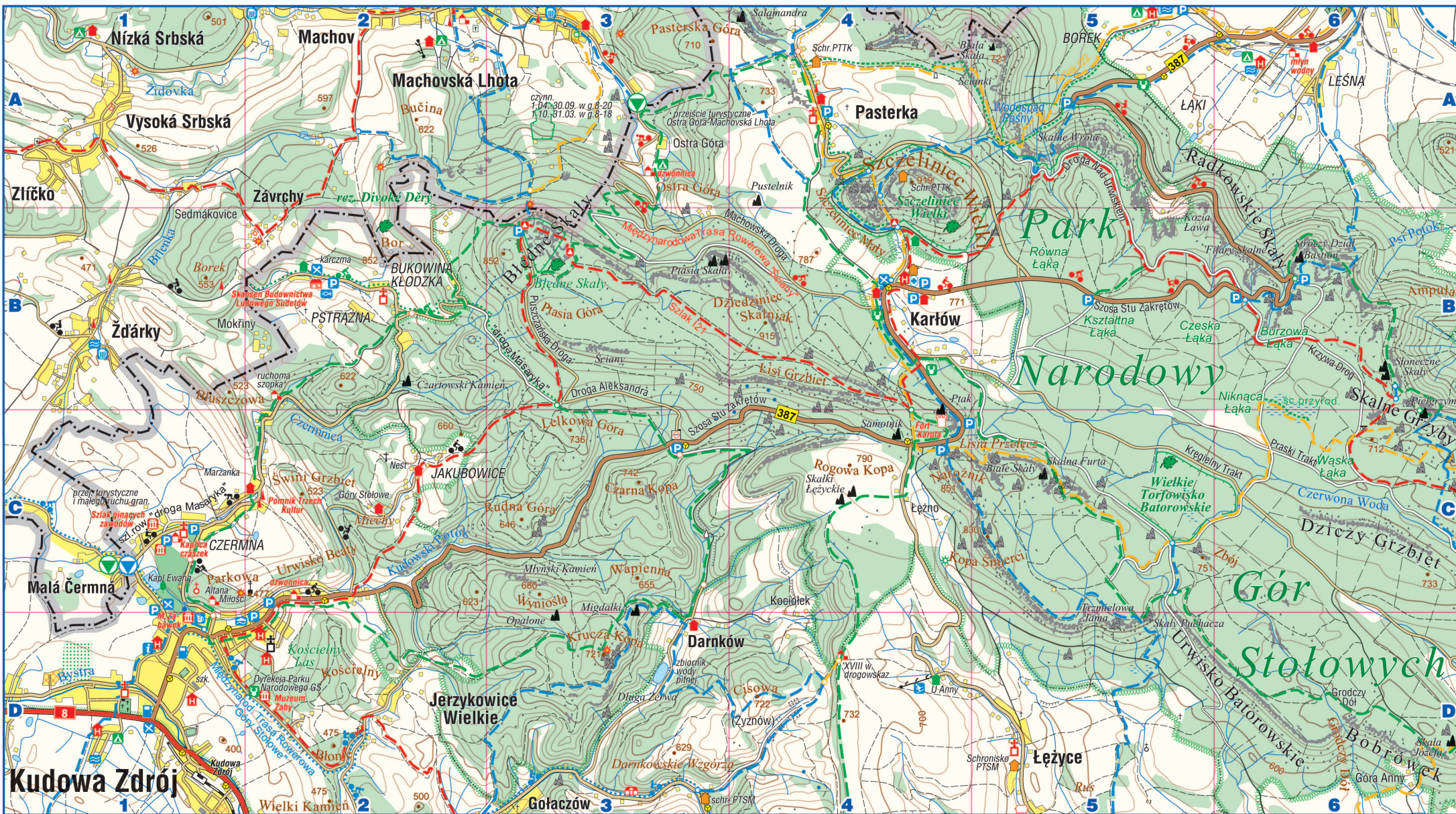


LP	TREŚĆ ZADANIA	PKT MAX
1.	 <p>a) Podaj nazwę województwa, które obejmuje obszar przedstawiony na mapie turystycznej. Wymień jego stolicę.</p> <p>Województwo ..... Stolica .....</p> <p>b) Obszar przedstawiony na mapie turystycznej graniczy z jednym z państw sąsiadujących z Polską.</p> <p>Wpisz na mapie w odpowiednim miejscu nazwę tego państwa.</p>	2
2.	<p>Wybierasz się na pieszą wędrowkę ze schroniska PTSM w Łężycach (pole D5) do Lisiej Przełęczy (pole C4/C5) przez Skąły Puchacz i Kopę Śmierci. Większość drogi pokonujesz idąc niebieskim szlakiem. Odszukaj na mapie i zapisz nazwę oraz wysokość bezwzględna najwyższego wzniesienia na trasie wędrowki. Oblicz różnicę wysokości między tym wzniesieniem a schroniskiem PTSM w Łężycach. Zapisz wykonywane obliczenia.</p> <p>Nazwa i wysokość bezwzględna wzniesienia: .....</p> <p>Miejsce na obliczenia:</p> <p>Różnica wysokości: .....</p>	2
3.	<p>Na podstawie mapy uzupełnij zdania: Jesteś na parkingu w Karłowie. Na masyw Szczelińca Wielkiego wędrujesz najkrótszą drogą szlakami koloru ..... i ..... . Aby nie powtarzać w drodze powrotnej tej samej trasy, wracasz na parking szlakami koloru ..... i .....</p>	2
4.	 <p>Widok na Szczeliniec Mały i Szczeliniec Wielki</p> <p>Korzystając z mapy i fotografii podkreśl poprawną odpowiedź. Osoba, wykonująca tę fotografię, znajdowała się</p> <p>A. na północ od Szczelińca Małego i Szczelińca Wielkiego. B. na południe od Szczelińca Małego i Szczelińca Wielkiego. C. na wschód od Szczelińca Małego i Szczelińca Wielkiego. D. na zachód od Szczelińca Małego i Szczelińca Wielkiego.</p>	1
5.	<p>Zaproponuj trasę wędrowki szlakami turystycznymi ze szczytu Szczelińca Wielkiego do rezerwatu „Błędne Skały”. Zapisz przebieg trasy, podając kolory szlaków i dwa charakterystyczne punkty na trasie. Podaj dwa argumenty uzasadniające atrakcyjność turystyczną wybranej trasy.</p> <p>Trasa: .....</p> <p>Uzasadnienie przebiegu trasy:</p> <p>1. ....</p> <p>2. ....</p>	3
6.	<p>Oblicz odległość w terenie w linii prostej między schroniskiem na Szczelińcu Wielkim a parkingiem przy rezerwacie Błędne Skały. Wynik podaj w km. Zapisz wykonywane obliczenia.</p> <p>Miejsce na obliczenia:</p> <p>Odległość w terenie: ..... km.</p>	2



14.	<p>Na mapie geologicznej przedstawiono fragment obszaru Gór Stołowych.</p>  <p>Cenoman - najstarsze piętro epoki górnej kredy w erze mezozoicznej Turon – piętro (po cenomanie) epoki górnej kredy w erze mezozoicznej</p>	<p>Podkreśl nazwę skały, z której zbudowane są szczytowe partie najwyższego położonego n.p.m. obszaru przedstawionego na mapie turystycznej.</p> <p>A. margiel B. mułowiec C. piaskowiec D. zlepieniec</p>	1
15.	<p>Uszereguj wymienione w legendzie mapy geologicznej z zadania 14. skały osadowe, okruchowe w kolejności, uwzględniającej wielkość budujących je ziaren. Zaczynij od skały zbudowanej z ziaren o najmniejszej średnicy.</p> <p>1. .... 2. .... 3. ....</p>	1	
16.	<p>Obszar przedstawiony na mapie turystycznej należy do zlewisk dwóch mórz. Podaj nazwy tych mórz.</p> <p>1. .... 2. ....</p>	1	
17.	<p>Powierzchnia rezerwatu „Wielkie Torfowisko Batorowskie” wynosi na załączonej mapie turystycznej 1,6 cm<sup>2</sup>. Oblicz powierzchnię tego rezerwatu w terenie. Zapisz wykonywane obliczenia. Wynik podaj w km<sup>2</sup>.</p> <p>Miejsce na obliczenia:</p> <p>Powierzchnia rezerwatu: .....</p>	2	
18.	<p>Wielkie Torfowisko Batorowskie to stale podmokły teren z roślinnością bagienną i bagienno-łąkową. Powstawaniu takiego obszaru sprzyja między innymi wilgotny klimat. Podaj dwa inne warunki – związane z rzeźbą i budową geologiczną obszaru – niezbędne do powstania torfowiska w górach.</p> <p>1. .... 2. ....</p>	2	
19.	<p>Podkreśl dwie kartograficzne metody prezentacji zjawisk, które zastosowano na załączonej mapie turystycznej.</p> <p>A. Izarytmiczna B. Kartodiagramu C. Kartogramu D. Sygnaturowa</p>	1	



# GÓRY STOŁOWE

mapa w skali 1:50 000  
poziomice co 20 m

## OPRACOWANIE MAPY:

"Compass" ul. Podchorążych 3, 30-084 Kraków,  
tel./fax 012-626-14-36,  
www.compass.krakow.pl  
e-mail: biuro@compass.krakow.pl



Wszelkie prawa zastrzeżone

	teren zabudowany, przemysłowy		nieczynna linia kolejowa		rezerwat przyrody, obszar rezerwatu		skansen, dwór, inny zabytek		stacja benzynowa, parking
	las, sad (ogródek działkowy)		wyciąg narciarski, skocznia narciarska		granica parku narodowego		ruina dworu, ruina zamku		leśniczówka, łowisko
	zarośla (młodnik), cmentarz		budynek użyteczności publicznej, dom (budynek), ruina		granica parku krajoznawczego		muzeum, pomnik		wieża przekaźnikowa, punkt widokowy
	droga krajowa, droga wojewódzka		krzyż, krzyż duży, mogiła		granica państwa		informacja turystyczna, GOPR		punkt poboru opłat: na drodze, na szlaku
	droga asfaltowa, przystanek PKS		kaplica zabytkowa, kapliczka zabytkowa, kapliczka		poziomica, skarpa ziemna, punkt wysokościowy		restauracja, pub, pijalnia wód mineralnych		przeście graniczne: lokalne, turystyczne
	droga utwardzona, zakaz wjazdu		kościół zabytkowy, kościół		staw, wodospad		hotel, inne noclegi		szlaki turystyczne piesze PTTK
	inna droga		pomnik przyrody, osobliwość natury		bagny, źródło		agroturystyka, schronisko, kemping		szlaki spacerowe
	ogrodzenie		ostaniec, skała, urwisko skalne		potok, strumień, strumień okresowy		miejsce odpoczynku, wiaty turystyczne		szlaki rowerowe
	tor kolejowy, stacja kolejowa		skała z nazwą, rumowisko skalne		stadion, boisko		kąpielisko, basen kryty		